

ÉCOLE NATIONALE DES PONTS ET CHAUSSÉES,
ÉCOLES NATIONALES SUPÉRIEURES DE L'AÉRONAUTIQUE ET DE L'ESPACE
DE TECHNIQUES AVANCÉES, DES TÉLÉCOMMUNICATIONS,
DES MINES DE PARIS, DES MINES DE SAINT-ÉTIENNE, DES MINES DE NANCY,
DES TÉLÉCOMMUNICATIONS DE BRETAGNE
ÉCOLE POLYTECHNIQUE (FILIERE TSI)

CONCOURS D'ADMISSION

SECONDE ÉPREUVE DE PHYSIQUE

Filière MP

(Durée de l'épreuve : 3 heures ; l'usage de la calculatrice est autorisé)

Sujet mis à disposition des concours : Cycle international, ENSTIM, INT, TPE-EIVP

Les candidats sont priés de mentionner de façon apparente sur la première page de la copie :
Physique II – Filière MP

L'énoncé de cette épreuve, particulière aux candidats de la filière MP, comporte 8 pages.

• Si, au cours de l'épreuve, un candidat repère ce qui lui semble être une erreur d'énoncé, il le signale sur sa copie et poursuit sa composition en expliquant les raisons des initiatives qu'il est amené à prendre.

• Tout résultat fourni dans l'énoncé peut être utilisé pour les questions ultérieures.

• Il ne faudra pas hésiter à formuler tout commentaire qui semblera pertinent. Le barème tiendra compte de ces initiatives ainsi que des qualités de rédaction de la copie.

Notations : un vecteur est noté en gras (exemple : \mathbf{A}) ; le vecteur unitaire pour la coordonnée a est noté \hat{a} .

LA DYNAMO TERRESTRE

L'hypothèse selon laquelle le champ magnétique terrestre n'aurait pas eu une polarité constante au cours du temps a été formulée pour la première fois par le géophysicien français Bernard BRUNHES, au début du XX^e siècle. Ce dernier s'appuyait sur des mesures d'aimantation de roches volcaniques. Des travaux ultérieurs ont établi que le champ géomagnétique subit, en plus des fluctuations quotidiennes et séculaires, de brusques renversements au cours desquels le Nord magnétique change d'hémisphère. L'existence de périodes de stabilité, s'étendant sur plus de cent millions d'années et suivies de nombreux renversements successifs, suggère un comportement *chaotique*¹. Ce problème présente un modèle fruste de la *dynamo*² terrestre pouvant rendre compte des changements de polarité du champ géomagnétique terrestre. Indépendamment de cette modélisation, la première partie étudie quelques propriétés du champ géomagnétique.

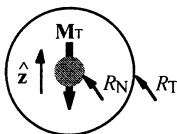


Fig. 1 : Terre, noyau et moment

Données numériques et ordres de grandeur

Le repère terrestre est associé aux coordonnées sphériques (r, θ, φ) d'axe Oz orienté sud-nord. Le champ magnétique terrestre est modélisé par le champ d'un dipôle permanent de moment $\mathbf{M} = -M \hat{z}$ situé au centre O de la Terre, assimilée à

¹ Comprenons ceci au sens faible : les oscillations de polarité du champ ne laissent percevoir aucune régularité.

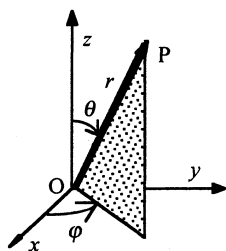
² « Machine produisant un courant électrique à partir d'un mouvement ».

une sphère de rayon R_T (Fig. 1). Le noyau terrestre est assimilé à une sphère concentrique, conductrice, fluide et homogène, de rayon R_N . La température du noyau est notée T , sa conductivité électrique σ et sa capacité thermique massique c . L'intensité du champ \mathbf{B} au pôle Nord terrestre est notée B_0 .

Les données ci-dessous sont données avec une précision variable.

Intensité du moment dipolaire	$M_T \approx 7,9 \times 10^{22} \text{ A.m}^{-2}$
Intensité de \mathbf{B} au pôle Nord	$B_0 \approx 6 \times 10^{-5} \text{ T}$.
Conductivité thermique du noyau	$\sigma \approx 5 \times 10^6 \Omega^{-1}.\text{m}^{-1}$.
Capacité thermique du noyau	$c \approx 2 \times 10^4 \text{ J.K}^{-1}.\text{kg}^{-1}$.
Masse volumique du noyau :	$\mu \approx 8 \times 10^3 \text{ kg.m}^{-3}$
Rayon terrestre moyen	$R_T = 6400 \times 10^3 \text{ m}$.
Rayon du noyau	$R_N \approx 5 \times 10^5 \text{ m}$.
Perméabilité du vide	$\mu_0 = 4\pi \times 10^{-7} \text{ H.m}^{-1}$.
Unité usuelle d'énergie	$1 \text{ eV} = 1,6 \times 10^{-19} \text{ J}$.
Masse de l'électron	$m_e \approx 10^{-30} \text{ kg}$.

Petit formulaire pour la partie 1 : champ dipolaire, valeur moyenne



Composantes, en coordonnées sphériques, du champ \mathbf{B} produit par un dipôle magnétique $\mathbf{M} = M\hat{z}$:

$$B_r = \frac{\mu_0}{2\pi} \frac{M \cos(\theta)}{r^3} \quad B_\theta = \frac{\mu_0}{4\pi} \frac{M \sin(\theta)}{r^3}.$$

La valeur moyenne d'une fonction périodique f de période P est $\langle f \rangle = \frac{1}{T} \int_{t_0}^{t_0+P} f(t) dt$ (résultat indépendant de t_0).

Petit formulaire pour les parties 2 et 3 : point critique

On nomme *point critique* du système différentiel $\frac{dx_i}{dt} = f_i(x_1, x_2, \dots, x_i, \dots)$, $i = 1, 2, \dots, N$ un point de coordonnées $(x_{1c}, x_{2c}, \dots, x_{Nc})$ satisfaisant, pour tout i , $f_i(x_{1c}, x_{2c}, \dots, x_{Nc}) = 0$.

Il est courant, pour une étude locale, de linéariser le système étudié, au voisinage d'un point donné sur une trajectoire. Le système obtenu s'écrit généralement, en posant $\dot{x}_i = \frac{dx_i}{dt}$:

$$\begin{pmatrix} \dot{x}_1 \\ \dots \\ \dot{x}_i \\ \dots \\ \dot{x}_N \end{pmatrix} = \mathbf{L} \begin{pmatrix} x_1 \\ \dots \\ x_i \\ \dots \\ x_N \end{pmatrix},$$

où \mathbf{L} est une certaine matrice. Lorsque toutes les valeurs propres de \mathbf{L} ont une partie réelle négative, le point considéré est dit *stable*. Lorsqu'il existe une valeur propre dont la partie réelle est positive, le point est dit *instable*. Lorsque toutes les parties réelles des valeurs propres sont nulles, une étude plus fine est nécessaire pour conclure sur la stabilité locale.

I – Le champ magnétique terrestre

- 1 – Retrouver la valeur de M , à partir de celle de B_0 .
- 2 – Admettant que ce moment magnétique soit produit par des courants volumiques de densité j , avec $M \approx j(R_N)^4$, estimer la valeur de j . Comparer cette valeur aux densités de courant usuelles dans les circuits ordinaires (TP, électroménager...).
- 3 – Vérifier l'homogénéité de la relation $M \approx j(R_N)^4$. Justifier que, en coordonnées sphériques, la direction dominante du vecteur densité de courant \mathbf{j} est $\hat{\phi}$.
- 4 – Calculer P_j , puissance volumique dissipée par effet Joule dans le noyau terrestre.
- 5 – Supposons que l'énergie nécessaire à l'entretien du champ magnétique terrestre provienne du noyau. La température du noyau diminuerait alors de ΔT pendant la durée Δt . Exprimer ΔT sous la forme $\Delta T = kP_j \Delta t$, où k est une constante que l'on explicitera. Calculer ΔT pour une durée Δt de un siècle.
- 6 – Calculer numériquement l'intensité du champ \mathbf{B} en un point A du plan équatorial situé à la distance $r_A = 6R_T$ du point O.
- 7 – Notant $\lambda = \frac{\pi}{2} - \theta$ la latitude du point d'observation, établir l'équation et tracer la représentation graphique de la ligne de champ C_A passant par A sous la forme $r = f(r_A, \lambda)$.
- 8 – Établir l'expression de la norme de \mathbf{B} sur C_A en fonction de λ et de B_0 . Tracer l'allure de la courbe $\|\mathbf{B}(\lambda)\|$. Cette représentation rend-elle compte de $\lim_{\lambda \rightarrow \frac{\pi}{2}} \|\mathbf{B}(\lambda)\|$?
- 9 – Une particule chargée de masse m , de vitesse \mathbf{v} et d'énergie constante E_A se déplace dans le plan équatorial, au voisinage de C_A , dans une région de l'espace suffisamment petite pour que l'on puisse y supposer le champ \mathbf{B} uniforme et constant. En adoptant a priori les lois de la mécanique newtonienne, établir la relation entre m , $\|\mathbf{v}\|$ et E_A . Commenter l'application numérique pour un électron dont l'énergie serait $E_A = 1 \text{ MeV}$.

II – Dynamo homopolaire

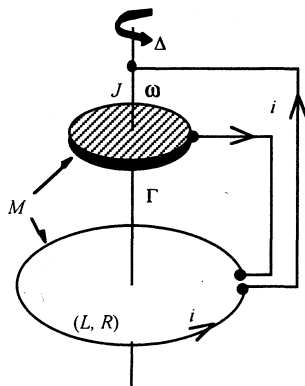


Fig. 2 — Dynamo homopolaire

II-1 Régime périodique

Un disque conducteur de rayon a , d'axe vertical Δ , de moment d'inertie J par rapport à cet axe est soumis à un couple de moment constant $\Gamma = \Gamma \hat{\mathbf{z}}$, où $\hat{\mathbf{z}}$ est le vecteur unitaire de la verticale ascendante. Il peut tourner sans frottements autour de Δ . Une spire circulaire de même axe est reliée d'une part à l'axe, supposé parfaitement conducteur (la spire est donc connectée au centre du disque), d'autre part à un point de sa périphérie. L'ensemble forme un circuit électrique de résistance R et d'inductance propre L . Le coefficient d'inductance mutuelle entre la spire et le disque est noté M . Le courant i dans le circuit et la vitesse de rotation ω du disque ont des orientations définies par la

Figure 2. Le mouvement du disque modélise les mouvements de matière dans le noyau terrestre, le couple modélise l'apport énergétique qui entretient ce mouvement. On admettra que le champ magnétique, dont l'amplitude est proportionnelle au courant i , est modélisé par ce courant.

Supposons que le disque soit mis en rotation dans un champ magnétique axial. La force électromotrice induite fait circuler un courant dans la spire, ce qui génère un champ magnétique axial \mathbf{B}_i se superposant au champ exciteur. Le dispositif est ainsi une dynamo auto-excitée ; même si le champ initial disparaît, la dynamo continue de fonctionner grâce à \mathbf{B}_i .

□ 10 – Exprimer, en fonction de l'inductance mutuelle M et de i , le moment des actions de Laplace qui, s'ajoutant au couple Γ , déterminent la rotation du disque ; on justifiera, ou à défaut on admettra, que le champ produit par le courant soit de la forme $B_i(r)\hat{\mathbf{z}}$; il sera commode ici d'utiliser le système de coordonnées cylindriques. Représenter le circuit électrique équivalent au dispositif et expliciter ses composants.

□ 11 – En appliquant, d'une part les lois de la dynamique, d'autre part celles de l'électrocinétique, établir le système [a] ci-dessous, de deux équations différentielles non linéaires du premier ordre, couplées :

$$\begin{cases} J \frac{d\omega}{dt} = \Gamma - \frac{1}{2\pi} M i^2 \\ R i + L \frac{di}{dt} = \frac{1}{2\pi} M \omega i \end{cases} \quad [\text{a}]$$

□ 12 – Déterminer le point critique de coordonnées positives de [a]. On notera ces dernières, respectivement, i_c et ω_c . Quel est le résultat de la substitution $i \rightarrow -i$?

□ 13 – Effectuer et commenter un bilan instantané de puissance. Rappeler quelle peut être, dans le cas de la Terre, l'origine physique du couple mécanique.

□ 14 – Le système [a] peut-il admettre une solution vérifiant $\Gamma\omega(t) = Ri^2(t)$?

□ 15 – Supposons à présent que le système [a] admette des solutions périodiques, de période notée P . Montrer dans ce cas que

$$\langle i^2 \rangle = 2\pi \frac{\Gamma}{M}, \quad \langle \omega \rangle = 2\pi \frac{R}{M} \quad \text{et} \quad \langle i \rangle = \frac{1}{2\pi} \frac{M}{R} \langle i\omega \rangle.$$

□ 16 – Les variables réduites I , Ω et u et le paramètre a sont définis par

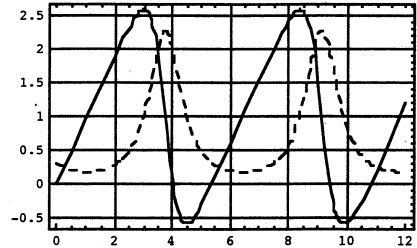
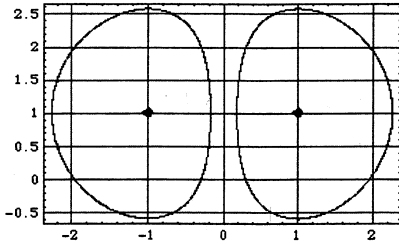
$$i = \left(2\pi \frac{\Gamma}{M} \right)^{\frac{1}{2}} I, \quad \omega = 2\pi \frac{R}{M} \Omega, \quad t = 2\pi \frac{RJ}{\Gamma M} u \quad \text{et} \quad a = 2\pi \frac{R^2 J}{\Gamma L M}.$$

Vérifier que I , Ω , u et a sont sans dimension ; établir le système [A] satisfait par les nouvelles variables, I et Ω , en fonction du temps réduit u . Quels en sont les points critiques, de coordonnées notées respectivement $\pm I_c$ et Ω_c ? Vérifier la relation $a = \frac{J\omega_c^2}{Li_c^2}$.

□ 17 – Établir le système différentiel relatif à $Z(u) = \Omega(u) - 1$ et $I(u)$. Notant $I(0) = I_0$ et $\Omega(0) = \Omega_0$, établir la relation suivante [R] entre Ω et I , indépendante de u :

$$(\Omega - 1)^2 = (\Omega_0 - 1)^2 + \frac{1}{a} \left[\ln \left(\frac{I^2}{I_0^2} \right) - (I^2 - I_0^2) \right]. \quad [\text{R}]$$

Dans les figures ci-après, $a = 1$, $|I_0| = 0,3$ et $\Omega_0 = 0$. La figure de gauche montre [R], I est en abscisse, Ω en ordonnée ; la figure de droite représente, en traits pointillés, $I(u)$ pour $I_0 = 0,3$ et, en traits pleins, $\Omega(u)$ pour $|I_0| = 0,3$. Commenter ces résultats.



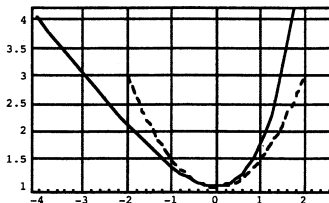
II-2 Étude dynamique au voisinage d'un point critique.

□ 18 – Dans le système [A] établi à la question 16, on pose, au voisinage d'un point critique, $I(u) = 1 + X(u)$ et à nouveau $\Omega(u) = 1 + Z(u)$, avec $|X(u)| \ll 1$ et $|Z(u)| \ll 1$. Linéariser le système obtenu et le mettre sous la forme [L], où \mathbf{L} est une matrice à expliciter ($f' = \frac{df}{du}$) :

$$\begin{pmatrix} X' \\ Z' \end{pmatrix} = \mathbf{L} \begin{pmatrix} X \\ Z \end{pmatrix}. \quad [\text{L}]$$

□ 19 – Déterminer la période d'oscillation réduite, Θ , des grandeurs X et Z . Peut-on conclure sur la stabilité de cet état stationnaire ?

II-3 Étude énergétique : stabilité d'un point critique



□ 20 – On pose, dans le système [A], $y = 2 \ln(I)$. Établir une équation différentielle (non linéaire) du deuxième ordre en y et en déduire l'intégrale première :

$$\frac{1}{2} \left(\frac{dy}{du} \right)^2 + U(y) = E_T,$$

où E_T est une constante d'intégration et $U(y)$ une fonction à expliciter, représentée ci-dessus en trait plein (la courbe en pointillés représente un puits parabolique). Pourquoi peut-on nommer $U(y)$ « énergie potentielle effective » ?

Quelles sont alors les significations de E_T et de $\frac{1}{2} \left(\frac{dy}{du} \right)^2$?

□ 21 – En s'appuyant sur une analyse graphique, justifier que le système est périodique. Établir une expression intégrale de la période Θ' , en fonction de la constante d'intégration E_T (on ne s'attardera pas sur la convergence de l'intégrale). Retrouver ainsi, pour les petits mouvements, l'expression de Θ obtenue dans la question 19.

□ 22 – Le modèle précédent est-il susceptible de prédire le renversement du champ magnétique terrestre ?

III Dynamo double

Le montage de la Figure 3 dérive du système étudié dans la partie II. Il comporte deux disques identiques, de moments d'inertie J , soumis au même couple constant de moment Γ et deux circuits identiques de résistance R et d'auto-inductance L ; le couplage entre les deux circuits est réalisé par l'inductance mutuelle M . Les grandeurs ω_1 , ω_2 , i_1 et i_2 sont orientées comme indiqué sur la Figure 3.

III-1 Modèle à trois variables

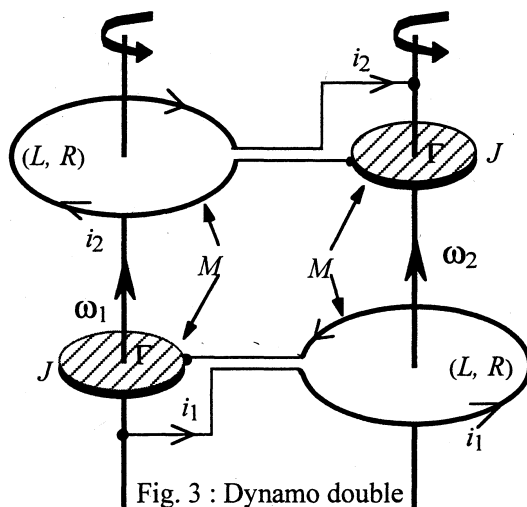


Fig. 3 : Dynamo double

□ 23 – Représenter les circuits électriques équivalents au dispositif et, par généralisation de la méthode utilisée pour la question 11, en déduire deux équations différentielles couplées. En étudiant les actions mécaniques sur les disques, écrire aussi deux autres équations différentielles couplées. Les variables de ces deux systèmes étant ω_1 , ω_2 , i_1 et i_2 , on admet qu'en introduisant des grandeurs sans dimension (cf. question 16), on obtient le système [T] suivant :

$$\frac{dI_1}{du} + aI_1 = a\Omega_1 I_2 \quad \frac{dI_2}{du} + aI_2 = a\Omega_2 I_1 \quad \frac{d\Omega_1}{du} = \frac{d\Omega_2}{du} = 1 - I_1 I_2. \quad [T]$$

On posera dans la suite $\Omega_1 = \Omega$ et $\Omega_2 = \Omega + 2\Omega_0$, où, comme le montre la troisième des équations du système [T], Ω_0 est une constante.

□ 24 – La constante Ω_0 étant donnée, déterminer le point critique de coordonnées positives $(I_{1c}, I_{2c}, \Omega_c)$ de [T]. Vérifier que $I_{2c} = \frac{1}{I_{1c}}$, $\Omega_c = I_{1c}^2$ et $\Omega_c + 2\Omega_0 = \frac{1}{\Omega_c}$.

III-2 Étude dynamique au voisinage d'un point critique.

□ 25 – La linéarisation du système [T], avec $I_1(u) = I_{1c} + x(u)$, $I_2(u) = I_{2c} + y(u)$ et $\Omega(u) = \Omega_c + z(u)$ donne, compte-tenu des résultats de la question 24,

$$\begin{pmatrix} x' \\ y' \\ z' \end{pmatrix} = \begin{pmatrix} -a & aI_c^2 & \frac{a}{I_c} \\ \frac{a}{I_c^2} & -a & aI_c \\ -\frac{1}{I_c} & -I_c & 0 \end{pmatrix} \begin{pmatrix} x \\ y \\ z \end{pmatrix} = \mathbf{L}' \begin{pmatrix} x \\ y \\ z \end{pmatrix}.$$

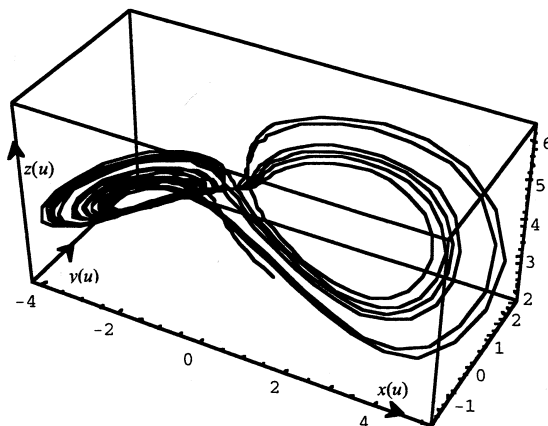
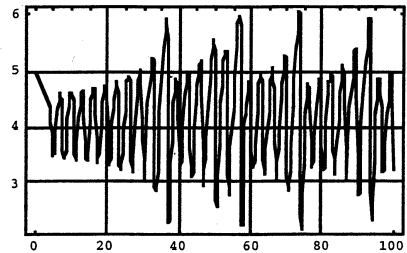
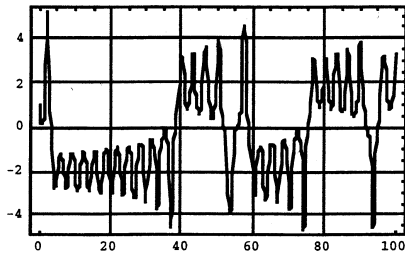
Les valeurs propres de \mathbf{L}' sont $\lambda_{réel} = -2a$ et $\lambda_{imag\pm} = \pm j \sqrt{aI_c^2 + \frac{a}{I_c^2}}$ ($j^2 = -1$). Peut-on conclure sur la stabilité de l'état stationnaire, de coordonnées $(I_{1c}, I_{2c}, \Omega_c)$?

□ 26 – Établir que, dans le cas particulier où $\Omega_0 = 0$, $\lim_{u \rightarrow \infty} [I_1^2(u) - I_2^2(u)] = 0$. Que peut-on en déduire, pour l'allure des cycles $\Omega(I_1)$ ou $\Omega(I_2)$, lorsque $u \rightarrow \infty$ (cf. question 17) ?

III-3 Allure de quelques solutions

Le recours aux simulations numériques est rendu nécessaire par la nature des conclusions sur la stabilité.

□ 27 – Les figures ci-dessous montrent le résultat de l'intégration du système [T] pour un certain jeu de paramètres. On observe successivement $I_1(u)$, $\Omega(u)$ et $\Omega = f(I_1, I_2)$; dans cette dernière figure, x , y et z représentent respectivement I_1 , I_2 et $\Omega(I_1, I_2)$. Les courbes $I_2(u)$ et $S(u) = I_1(u) + I_2(u)$ ont la même allure que celle de $I_1(u)$. Commenter ces résultats. Peut-on en déduire quelques-uns des paramètres du modèle ?



III-4 Retour sur les variables réduites

Nous avons défini plus haut le temps réduit $u = \frac{1}{2\pi} \frac{\Gamma M}{RJ} t$, ce qui permet d'introduire un temps caractéristique du système, $\tau_1 = 2\pi \frac{RJ}{\Gamma M}$. Il y a d'autres temps caractéristiques. Par exemple, la première équation du système [a], question 11, permet d'introduire le temps $\tau_2 = \sqrt{\frac{J}{\Gamma}}$ et la seconde équation le temps $\tau_3 = \frac{L}{R}$. On remarque aussi que, L et M possédant la même dimension, toute grandeur caractéristique peut être multipliée par le facteur sans dimension $\left(\frac{L}{M}\right)^\alpha$, où α est réel.

On se propose de déterminer d'autres grandeurs caractéristiques du système par analyse dimensionnelle élémentaire. La notation $[y]$ désignera désormais la dimension de la grandeur y . Les dimensions utilisées seront notées de la manière suivante :

m = masse l = longueur t = temps i = intensité du courant

□ 28 – Exprimer $[L]$ (inductance), $[R]$ (résistance), $[J]$ moment d'inertie et $[\Gamma]$ (moment d'un couple) en fonction de m, l, t et i .

□ 29 – Rechercher les temps caractéristiques sous la forme $\tau = \left(\frac{L}{M}\right)^{\alpha_\tau} L^\beta R^\gamma J^\delta \Gamma^\varepsilon$: α_τ restant indéterminé, on exprimera β, γ et δ en fonction de ε . Pour quelle valeur de ε retrouve-t-on le choix de la partie II ? Proposer un autre choix.

□ 30 – Procéder de même pour trouver les divers courants caractéristiques et les diverses pulsations caractéristiques, sous la forme $I = \left(\frac{L}{M}\right)^{\alpha_I} L^\gamma R^\varepsilon J^u \Gamma^v$ et $\Omega = \left(\frac{L}{M}\right)^{\alpha_\Omega} L^b R^c J^d \Gamma^e$.

Les résultats feront agréablement apparaître le paramètre a introduit à la question 16.

FIN DE L'ÉPREUVE